

台北市立成功高中 104 學年度第 2 學期三年級數學科(自然組)第 1 次期中考試題卷 P1

一、多選題：(每題 5 分，共 4 題。)(每題至少有一個正確選項。每題全對得 5 分，錯一個選項得 3 分，其餘 0 分。)

1. 下列哪些選項是正確的？

(1) 循環小數 $2.\bar{9} < 3$ (2) $\sum_{n=1}^{\infty} \frac{1}{2^{n-1}} < 2$ (3) 若 $\lim_{n \rightarrow \infty} a_n = a, a \in \mathbb{R}$ ，則 $\lim_{n \rightarrow \infty} |a_n - a| = 0$ 。

(4) 設 $\lim_{n \rightarrow \infty} a_n = L, \lim_{n \rightarrow \infty} b_n = M, L \in \mathbb{R}, M \in \mathbb{R}$ 。若 $n \geq 2016$ 時，不等式 $a_n < b_n$ 恆成立，則 $L < M$ 。

(5) 若無窮數列 $\langle a_n \rangle$ 與 $\langle b_n \rangle$ 均為發散數列，則無窮數列 $\langle a_n \cdot b_n \rangle$ 必發散。

2. 選出極限存在的選項：

(1) $\lim_{x \rightarrow 4} \frac{(x-4)^2}{|x-4|}$ (2) $\lim_{x \rightarrow 4} \frac{x^2 - x - 12}{|x-4|}$ (3) $\lim_{x \rightarrow 4} \frac{(x^2 - x - 12)^2}{x-4}$

(4) $\lim_{x \rightarrow 4} \frac{x^2 - x - 12}{(x-4)^2}$ (5) $\lim_{x \rightarrow 4} \frac{x^2 - x - 12}{|x|-4}$

3. 若多項式 $f(x)$ 滿足 $f(1)=0$ 及 $f'(1)=-8$ ，則下列敘述哪些是正確的？

(1) $\lim_{h \rightarrow 0} \frac{f(1+h)}{2h} = -4$

(2) $\lim_{h \rightarrow 0} \frac{f(1+h) - f(1-2h)}{h} = -24$

(3) $f(x)$ 至少是二次以上的多項式，即 $\deg f(x) \geq 2$ 。

(4) $f(x)$ 除以 $(x-1)^2$ 的餘式為 $-8x+8$

(5) 無窮數列 $\left\langle f\left(1+\frac{1}{n}\right)\right\rangle$ 的極限為 0

4. 下列哪些函數在 $x=0$ 處可微分？（ $[x]$ 為高斯函數）

(1) $f_1(x) = [x]$ (2) $f_2(x) = x \cdot [x]$ (3) $f_3(x) = x \cdot [x + \pi]$

(4) $f_4(x) = |x^2 + x|$ (5) $f_5(x) = x \cdot |x|$

二、填充題：(每個空格 5 分，共 13 格。)

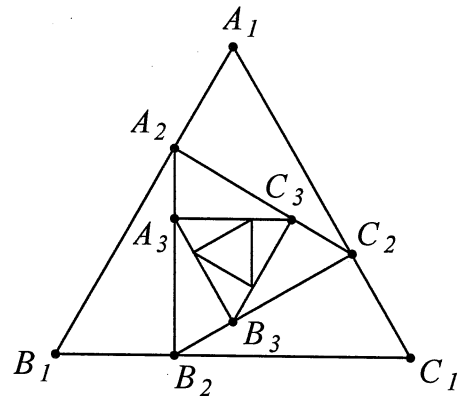
1. $\lim_{n \rightarrow \infty} \frac{5^{n+1} - 3^{2n+3}}{3^{2n} + 5^n} = \underline{\hspace{2cm}} \text{(A)}$

2. 已知 $\lim_{n \rightarrow \infty} \left(\frac{n^2 + bn}{n-1} - \frac{an^2 + n}{n+3} \right) = 4$ ，求常數 a 與 b 的值。答：數對 $(a, b) = \underline{\hspace{2cm}} \text{(B)}$

3. 設無窮數列 $\left\langle \frac{3^{n+1}}{(x-3)^n} \right\rangle$ 收斂，求 x 之範圍。答： $\underline{\hspace{2cm}} \text{(C)}$

台北市立成功高中 104 學年度第 2 學期三年級數學科(自然組)第 1 次期中考試題卷 P2

4. 如右圖，設 $\Delta A_1B_1C_1$ 為正三角形且面積為 2，點 A_2, B_2, C_2 分別為 $\overline{A_1B_1}, \overline{B_1C_1}, \overline{C_1A_1}$ 上逆時針方向的第一個三等分點，點 A_3, B_3, C_3 分別為 $\overline{A_2B_2}, \overline{B_2C_2}, \overline{C_2A_2}$ 上逆時針方向的第一個三等分點，... 按此規則持續不斷。設 a_n 為 $\Delta A_nB_nC_n$ 的面積， $S_n = a_1 + a_2 + \dots + a_n$ 。若 $|S_n - 3| < \frac{1}{100}$ ，則最小正整數 $n =$ (D) _____



5. $\lim_{n \rightarrow \infty} \frac{\sqrt{1 \cdot 2} + \sqrt{2 \cdot 3} + \sqrt{3 \cdot 4} + \dots + \sqrt{n(n+1)}}{n^2} =$ (E) _____

6. 設函數 $f(x) = \frac{1}{\sqrt{2+x-x^2}}$ ，則 $f(x)$ 的定義域為 (F) _____，值域為 (G) _____
(用集合表示法寫答案，否則不給分。)

7. $\lim_{x \rightarrow -2} \frac{(x+1)^{100} + 1}{x-2} =$ (H) _____

8. $\lim_{x \rightarrow 0} \frac{1}{x} \left(\frac{1}{3+x} - \frac{1}{3} \right) =$ (I) _____

9. 設平面上兩點 $A(-1, \sqrt{3})$ ， $B(t, \sqrt{4-t^2})$ ，令 $m(t)$ 表直線 AB 的斜率，求 $\lim_{t \rightarrow -1} m(t) =$ (J) _____

10. 設 $f(x) = \frac{(x-101)(x-102)(x-103)(x-104)}{(x-105)(x-106)}$ ，則 $f'(104) =$ (K) _____

11. 求函數 $f(x) = (1+x)^4(1-x)^5$ 的圖形上，以點 $P(0,1)$ 為切點的切線方程式。答：(L) _____

12. 設 $f(x) = \begin{cases} x+1, & x \leq 0 \\ g(x), & x > 0 \end{cases}$ ，其中 $g(x)$ 為某個二次多項式，若 $f(x)$ 在 $x=0$ 處可微分，

請舉一例符合此條件的多項式 $g(x)$ 。答： $g(x) =$ (M) _____

台北市立成功高中 104 學年度第 2 學期三年級數學科(自然組)第 1 次期中考試題卷 P3

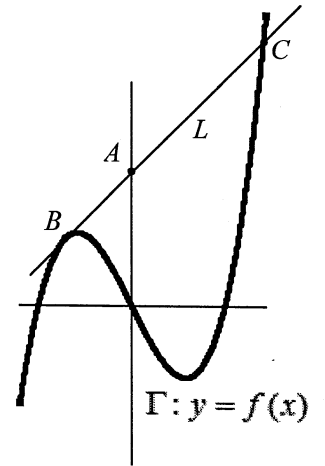
三、計算題：(第 1 題 10 分，第 2 題 5 分。)(無計算過程，不予計分。)

及答案卷(背面)

1. 設 Γ 為函數 $f(x) = x^3 - 2x$ 的圖形，已知點 $A(0, 2)$ 是 Γ 外一點，直線 L 為過 A 點且以 Γ 上 B 點為切點的切線，求：

(1) 切點 B 的坐標。(2) 直線 L 的方程式。(3) Γ 與 L 的另一個交點 C 的坐標。

解：



2. 請在虛線框線內完成下列微分公式的證明。

公式：若函數 $f(x) = cx^n$ (c 為非零常數， n 為正整數)，則 $f'(x) = ncx^{n-1}$ 。

證明：設 a 為實數，計算 $f'(a)$ 如下：

$$f'(a) =$$

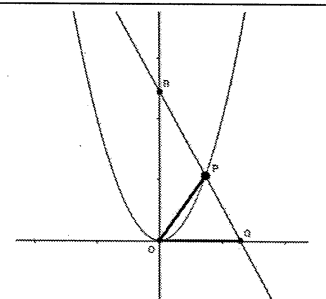
$$= nca^{n-1} .$$

因此， $f'(x) = ncx^{n-1}$ 。

- 四、加分題：(5 分。)

坐標平面上， O 為原點，設 $P(t, t^2)$ 為 $y = x^2$ 上異於原點之動點， Q 為 x 軸上異於原點之動點，

且 $\overline{OP} = \overline{OQ}$ ，若 \overline{PQ} 交 y 軸於 $R(0, y(t))$ ，試求 $\lim_{t \rightarrow 0} y(t) =$ _____



台北市立成功高中 104 學年度第 2 學期三年級數學科(自然組)第 1 次期中考答案卷(正面)

班級：_____ 座號：_____ 姓名：_____

一、多選題：(每題 5 分，共 4 題。)(每題至少有一個正確選項。每題全對得 5 分，錯一個選項得 3 分，其餘 0 分。)

1.	2.	3.	4.

二、填充題：(每個空格 5 分，共 13 格。)

(A)	(B)	(C)	(D)	(E)	(F)	(G)
(H)	(I)	(J)	(K)	(L)	(M)	

◎背面還有試題：「三、計算題」及「四、加分題」

台北市立成功高中 104 學年度第 2 學期三年級數學科(自然組)第 1 次期中考答案

一、多選題：(每題 5 分，共 4 題。)(每題至少有一個正確選項，每題全對得 5 分，錯一個選項得 3 分，其餘 0 分。)

1.	2.	3.	4.
3	135	1245	35

二、填充題：(每個空格 5 分，共 13 格。)

(A)	(B)	(C)	(D)	(E)	(F)	(G)
-27	(1, 1)	$x < 0$ or $x \geq 6$	6	$\frac{1}{2}$	$\{x x \in \mathbb{R}, -1 < x < 2\}$	$\{y y \in \mathbb{R}, y \geq \frac{2}{3}\}$
(H)	(I)	(J)	(K)	(L)	(M)	
$\frac{1}{2}$	$\frac{1}{9}$	$\frac{1}{\sqrt{3}}$	3	$y = -x + 1$	$ax^2 + x + 1$ a 是非0實數即可	

三、計算題：(第 1 題 10 分，第 2 題 5 分。)

1. 設 Γ 為函數 $f(x) = x^3 - 2x$ 的圖形，已知點 $A(0, 2)$ 是 Γ 外一點，直線 L 為過 A 點且以 Γ 上 B 點為切點的切線，求：

解：(1)切點 B 的坐標。(2)直線 L 的方程式。(3) Γ 與 L 的另一個交點 C 的坐標。

令 $B(t, t^3 - 2t)$ $f'(x) = 3x^2 - 2$

L 的斜率 = $\frac{(t^3 - 2t) - 2}{t - 0} = f'(t) = 3t^2 - 2$ (2 分)

$\Rightarrow (t+1)(t^2 - t + 1) = 0$ (1 分)

$\Rightarrow t = -1$

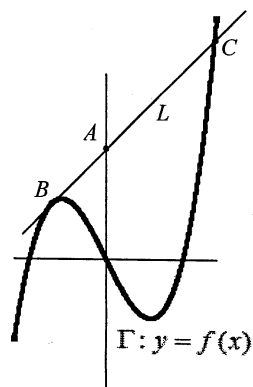
$\therefore B(-1, 1)$ (2 分)

$f'(-1) = 1$ 且 $A(0, 2)$ (2 分)

$\Rightarrow L: y = x + 2$

$x^3 - 2x = x + 2 \Rightarrow (x+1)^2(x-2) = 0$ (3 分)

$\therefore x = 2, f(2) = 4 \Rightarrow C(2, 4)$



2. 請在虛線框線內完成下列微分公式的證明。

公式：若函數 $f(x) = cx^n$ (c 為非零常數， n 為正整數)，則 $f'(x) = ncx^{n-1}$ 。

證明：設 a 為實數。計算 $f'(a)$ 如下：

$f'(a) = \lim_{x \rightarrow a} \frac{f(x) - f(a)}{x - a} = \lim_{x \rightarrow a} \frac{cx^n - ca^n}{x - a}$ (1 分)

$= c \cdot \lim_{x \rightarrow a} \frac{(x-a)(x^{n-1} + ax^{n-2} + a^2x^{n-3} + \dots + a^{n-2}x + a^{n-1})}{x - a}$ (3 分)

$= c \cdot \lim_{x \rightarrow a} (x^{n-1} + ax^{n-2} + a^2x^{n-3} + \dots + a^{n-2}x + a^{n-1})$

$= nca^{n-1}$ (1 分)

因此， $f'(x) = ncx^{n-1}$ 。

四、加分題：(5 分。)

坐標平面上， O 為原點，設 $P(t, t^2)$ 為 $y = x^2$ 上異於原點之動點， Q 為 x 軸上異於原點之動點，且 $\overline{OP} = \overline{OQ}$ ，若 \overline{PQ} 交 y 軸於 $R(0, y(t))$ ，試求 $\lim_{t \rightarrow 0} y(t) = \underline{2}$